

[1] 次の文章を読んで、問いに答えなさい。

2019年5月1日、新天皇の即位にともなって、①新元号の「令和」が施行された。明治天皇の即位以降、ひとりの天皇の在位中は元号を変えない制度がとられるようになったが、それ以前はめでたいことが起こったり、不吉なことが起こったりしたときなどに改元がおこなわれ、元号は248も存在している。江戸時代までの学習の中で、例えば②政治改革、③内乱、④文化の名称や、⑤重大なできごとの名称などに多く元号が使用されていることをみなさんは知っているでしょう。

問1 下線部①について、2019年4月1日に新元号を発表した右の人物の役職として正しいものをア～エから1つ選び、記号で答えなさい。
ア. 宮内庁長官 イ. 自民党幹事長
ウ. 内閣官房長官 エ. 文部科学大臣



問2 下線部②について、このような例に「大化の改新」「建武の新政」「寛政の改革」などがある。これらについて、(1)～(3)の問いに答えなさい。

(1) 「大化の改新」の説明文X・Yの正誤の組み合わせとして正しいものをア～エから1つ選び、記号で答えなさい。

X. 中大兄皇子が中臣鎌足とともに蘇我蝦夷・入鹿を倒し、帰国した留学生などの協力を得ながら、新しい政治のしくみをつくろうとした。
Y. 中大兄皇子は都を大津宮に移し、律令や歴史書の編纂を命じるなど、強力な改革を行った。

ア. X-正 Y-正 イ. X-正 Y-誤
ウ. X-誤 Y-正 エ. X-誤 Y-誤

(2) 「建武の新政」の説明文X・Yの正誤の組み合わせとして正しいものをア～エから1つ選び、記号で答えなさい。

X. 鎌倉幕府の滅亡後、後鳥羽上皇は武家の政治を否定し、公家を重視する政策をとった。
Y. 天皇家中心の政治に不満が高まり、足利義満が武家の政治の復活を呼びかけ兵をあげると、新政は2年ほどでくずれた。

ア. X-正 Y-正 イ. X-正 Y-誤
ウ. X-誤 Y-正 エ. X-誤 Y-誤

(3) 「寛政の改革」の説明文X・Yの正誤の組み合わせとして正しいものをア～エから1つ選び、記号で答えなさい。

X. 「寛政の改革」とは、老中松平定信が18世紀後半に行った政治改革を指す。

Y. 裁判の基準となる公事方御定書が制定されたり、庶民の意見を聞く目安箱が設置されたりした。

ア. X-正 Y-正 イ. X-正 Y-誤
ウ. X-誤 Y-正 エ. X-誤 Y-誤

問3 下線部③について、このような例に「応仁の乱」「承久の乱」「壬申の乱」などがある。これらについて、(1)～(4)の問いに答えなさい。

(1) 「応仁の乱」前後の社会には、実力のある者が力を伸ばして上の身分の者に打ち勝つ風潮が広がっていた。このような風潮を何というか、答えなさい。
(2) 「承久の乱」のあとに朝廷を監視するために京都に置かれた機関を何というか、答えなさい。
(3) 「壬申の乱」に勝利したあとに即位した天皇を、答えなさい。
(4) A「応仁の乱」、B「承久の乱」、C「壬申の乱」について、時代順に正しくならびかえなさい。なお、解答には記号を用いなさい。

問4 下線部④について、このような例に「元禄文化」などがある。「元禄文化」の説明として誤っているものをア～エから1つ選び、記号で答えなさい。

ア. 元禄文化は、大阪や京都を中心として上方で栄えた文化である。
イ. 井原西鶴は、武士や町人の生活をもとに浮世草子を書いた。
ウ. 葛飾北斎や歌川広重は、町人の風俗を描き、浮世絵の祖といわれる。
エ. 農学、数学、天文学などでも独自の発展がみられた。

問5 下線部⑤について、このような例に「天正遣欧少年使節」などがある。「天正遣欧少年使節」が派遣された年のできごととしてあてはまるものをア～エから1つ選び、記号で答えなさい。

ア. ポルトガル人を乗せた船が種子島に流れ着き、鉄砲が初めて伝えられた。
イ. 全国統一を目前にした織田信長は、明智光秀にそむかれて本能寺で自害した。
ウ. 豊臣秀吉は、明の征服をめざして諸大名に命じて大軍を朝鮮に派遣した。
エ. 迫害や重税に苦しむ島原や天草の人々が、天草四郎を大将に一揆を起こした。

[2] 次のA～Cの文章を読んで、問いに答えなさい。

A. (①) が②アメリカで電話を発明したのは1876年。日本では1890年12月に初めて電話が引かれた。この時の電話の加入件数は東京155、横浜42で、新聞社や政府機関、銀行や商社などだった。当時の電話は壁掛け式で、電話をかけようとすると、まず「交換局」につながり、そこで③「交換手」に相手の電話番号を伝えとつないでくれた。

電話の加入者が増え、人の手による交換では追いつかなくなり、1923年の(④)で首都圏の交換設備の多くが壊れたのをきっかけに、自動交換機が使われるようになった。

問1 (①) にあてはまる人物をア～エから1つ選び、記号で答えなさい。

ア. エジソン イ. ワット ウ. ベル エ. モールス

問2 下線部②について、この年のできごととして正しいものをア～エから1つ選び、記号で答えなさい。

ア. 陸奥宗光外相により、日英通商航海条約が結ばれ、治外法権が撤廃された。
イ. 不平等条約でもある日朝修好条規を結んで、朝鮮を開国させた。
ウ. 外国船打ち払い令により、接近する外国船を砲撃して追い払う方針を定めた。
エ. 全国の藩主たちに命じて、領地と領民を天皇に返す版籍奉還がおこなわれた。

問3 下線部③について、電話交換手やバスガールなど働く女性が増加した大正時代の社会の様子として正しいものをア～エから1つ選び、記号で答えなさい。

ア. 労働団体である友愛会が中心となって、日本初のメーデーがおこなわれた。
イ. 国産の映画が流行し、都市部では日本初のテレビ放送も開始された。
ウ. 中学校への進学率が高まり、教育基本法により大学や専門学校の数が増えた。
エ. 部落解放運動がおこり、被差別部落の住民が日本農民組合を創設した。

問4 (④) にあてはまるできごとを、答えなさい。

B. 2か国の政府首脳が非常時に直接対話できるように設置された直通回線をホットラインという。⑤第二次世界大戦中、イギリスとアメリカ合衆国の間で設置され、当時の首脳が直接電話会談した。日本では自動交換機の導入によって加入件数も増え続けていたが、⑥戦争がはじまると大きく減った。戦後、1950年には戦前の件数まで再び増えた。

1962年、ソ連が(⑦)に核ミサイル基地を建設していることを知ったアメリカのケネディ大統領は、(⑦)の海上封鎖に踏み切った。これにより米ソ間で、⑧核兵器による全面戦争の危機が高まったが、ソ連のフルシチョフ第一書記(首相兼務)が、アメリカの要求を受け入れ、ミサイルの撤去を発表したため、この危機は回避された。これを機に米ソ間でもホットラインが設置された。

問5 下線部⑤について、この時のイギリスとアメリカ合衆国の首脳を組み合わせとして正しいものをア～エから1つ選び、記号で答えなさい。

ア. <input type="checkbox"/> 英	—	チャーチル	<input type="checkbox"/> 米	—	ウィルソン
イ. <input type="checkbox"/> 英	—	フランクリン・ローズベルト	<input type="checkbox"/> 米	—	ウィルソン
ウ. <input type="checkbox"/> 英	—	チャーチル	<input type="checkbox"/> 米	—	フランクリン・ローズベルト
エ. <input type="checkbox"/> 英	—	ウィルソン	<input type="checkbox"/> 米	—	フランクリン・ローズベルト

問6 下線部⑥に関連して、1938年、政府が政治・経済から国民生活の全てを戦争に動員するために公布した法律を何というか、答えなさい。

問7 (⑦) にあてはまる国をア～エから1つ選び、記号で答えなさい。

ア. ポーランド イ. 朝鮮民主主義人民共和国
ウ. キューバ エ. ベトナム

問8 下線部⑧に関連して、核兵器について説明した文として誤っているものをア～エから1つ選び、記号で答えなさい。

ア. ビキニ環礁でのフランスの水爆実験により、日本の第五福竜丸が被爆した。
イ. 核兵器の廃絶を訴えるパグウォッシュ会議にはアインシュタインが参加した。
ウ. 地下以外の核実験を禁止する部分的核実験停止条約に米・英・ソが調印した。
エ. 核兵器を「持たず・つくらず・持ち込ませず」という非核三原則が日本の方針となった。

C. 今の携帯電話のしくみとは異なるが、初めて持ち運べる電話が日本で多くの人の目にふれたのは、1970年に大阪府で開かれた(⑨)だった。この「ワイヤレステレホン」は加入電話の子機のようなものであったが、この電話をかけるのに長い行列ができた。⑩初めて手で持ち運べる「携帯電話」の発売は1987年。当時は重さが約900グラムもあった。それから軽量化が進み、1999年からは「iモード」サービスにより携帯電話からインターネットにアクセスできるようになる。2008年にはアメリカ・アップル社のiPhoneが日本で発売され、スマートフォンブームがおこった。

問9 (⑨) にあてはまるできごとをア～エから1つ選び、記号で答えなさい。

ア. 夏季オリンピック イ. 日韓共催サッカーワールドカップ
ウ. 主要国首脳会議 エ. 万国博覧会


問10 下線部⑩に関連して、この年、日本の1人あたりの国民総生産はアメリカを抜いた。この時の、地価や株価が上がり続ける一連の動きを称してのちに何といったか、解答らんにあわせてカタカナで答えなさい。

[3] 次の絵はシンガポール出身の作家エヴァンジェリン・ネオのかいた『エヴァコミックス』というマンガの一部である。これを見て、問いに答えなさい。なお、この漫画における表現・コメントは作者自身の感想・考えであり、該当国すべての人々が同じような考えや行動をしているわけではないことを、あらかじめ付け加えておく。

図1

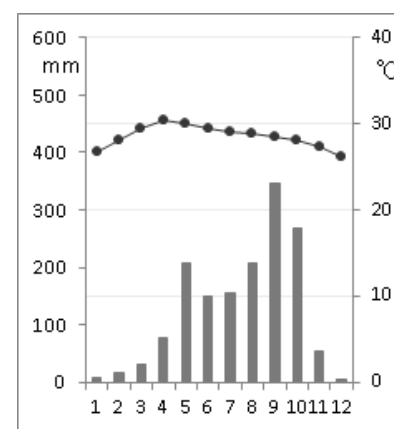


図2

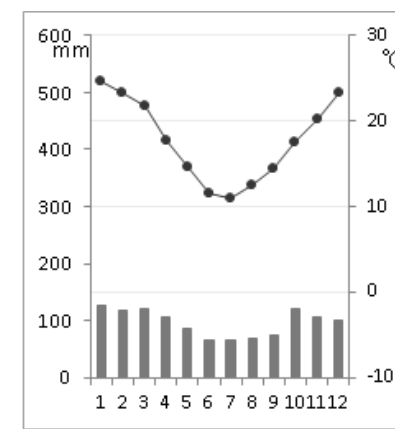


(Evangeline=Neo 『EVA, KOPI AND MATCHA』 EVACOMICS<Candid Creation Publishing>)

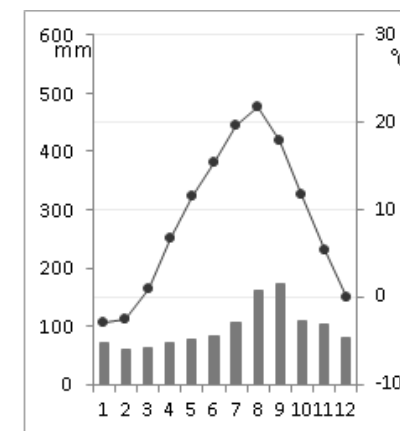
問1 図1に関連して、次にあげる雨温図のなかで函館とシンガポールにあてはまるものをア〜カからそれぞれ1つずつ選び、記号で答えなさい。なお、上記以外の都市の雨温図は、バンコク・ニューデリー・パリ・ブエノスアイレスのものである。



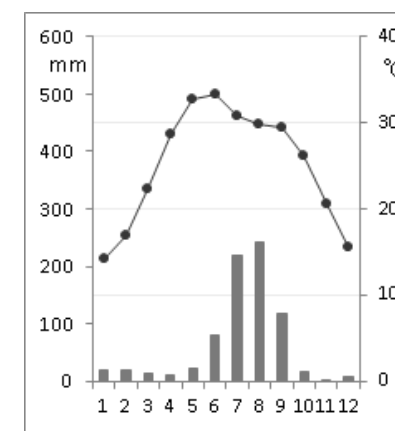
ア



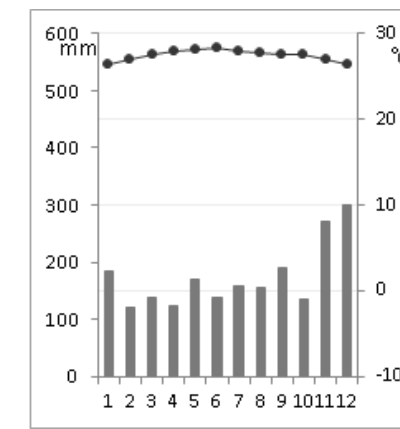
イ



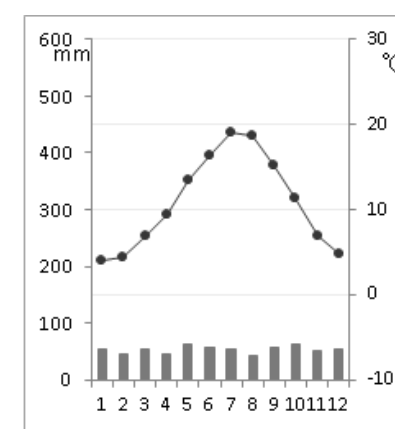
ウ



エ



オ



カ

問2 問1の雨温図について、これらの雨温図のなかで1つだけ仲間はずれのものがある。その雨温図をア～カから1つ選び、記号で答えなさい。また、その雨温図の都市名を問1の都市一覧から選び、選んだ理由を答えなさい。

問3 図1について説明した文のなかで、**まちがった**説明をしているものがある。その文をア～エから1つ選び、記号で答えなさい。

- ア. 日本の気候は、春・夏・秋・冬の4つの季節がある。
- イ. 日本は、夏以外は服装の調整で快適に過ごすことができる。
- ウ. シンガポールの気候は、暑季と寒季の2つの季節がある。
- エ. シンガポールは年中暑い、室内はエアコンが効きすぎている場合がある。

問4 図2について、次の問いに答えなさい。

(1) 図2の右の絵は、日本の道ばたにはたくさんの自動販売機があることがあらわされている。このことを説明した文として**誤っているもの**をア～エから1つ選び、記号で答えなさい。

- ア. 日本は対面販売を敬遠する人が多く、経営者はいっそ無人で販売できる自動販売機を設置した方が売上げが上がり、と考えたため。
- イ. 日本は比較的治安がよいため、自動販売機を設置しても問題ないと考えられているため。
- ウ. 日本は店が閉まっても飲料などを買える便利さを求めている人が多いため、自動販売機を設置すれば利用者が多いと考えられているため。
- エ. 日本は自動販売機の設置が世界でも有数の多さで、飲料だけでなくあらゆるものが自動販売機で売られていることが、作者の印象に強く残ったため。

(2) 図2の左の絵は、シンガポールの道ばたにはたくさんのゴミ箱があることがあらわされている。作者が伝えたかったことは何か、問4(1)の日本の場合の説明文の書き方を参考にしながら、説明しなさい。

問5 次のシンガポールに関する文章の(A)～(D)にあてはまる語を、答えなさい。

シンガポールは、海上交通の重要な(A)地点であったため、(A)貿易で繁栄できると目をつけた(B)が1824年に正式に植民地とした。その後無関税の自由港政策を(B)が推し進めたこともあり、急速に発展した。そのため、同じ(B)の植民地であった(C)南部のタミル人が多く移民し、現在でも人口の1割弱を占めている。また、(D)南部などから荷役労働者や貿易商として移民が相次ぎ、現在は華人と呼ばれ、人口の7割以上を占めている。

問6 次の表を見て、問いに答えなさい。

表 日本とシンガポールとの貿易(2018年)

シンガポールへの輸出	%	シンガポールからの輸入	%
機械類	33.8	機械類	39.0
うち集積回路	6.8	うち半導体製造装置	11.7
半導体製造装置	2.9	集積回路	6.9
金(非貨幣用)	7.3	コンピュータ	5.9
船舶	6.4	医薬品	12.0
石油製品	5.5	科学光学機器	8.2
自動車	3.9	有機化合物	7.7
鉄鋼	2.0	石油製品	5.3
科学光学機器	1.6	プラスチック	3.0
化粧品	1.6	金(非貨幣用)	0.8
計(2,584,088百万円)	100.0	計(1,075,967百万円)	100.0

(「日本国勢図会2019/20」より)

- (1) シンガポールの貿易は、日本側から見て黒字なのか、赤字なのか、答えなさい。
- (2) 貿易額の多い品目を見ると、その国の貿易がX. 先進国型か、Y. 中間型か、Z. 途上国型か、と分けることができる。シンガポールの貿易は何型にあたるかX～Zの記号で、答えなさい。なお、途上国型の貿易とは、原材料を輸出し、工業製品を輸入している国のことをいう。
- (3) 表の品目のなかに、「科学光学機器」がある。これは、光を利用した工業製品のことをいう。次にあげる製品のなかで、「科学光学機器」にあてはまらないものをア～エから1つ選び、記号で答えなさい。
ア. 光ファイバー イ. メガネ ウ. USBメモリ エ. 写真機用レンズ

[4] 次の文章を読んで、問いに答えなさい。

政府は12月20日の閣議で、2020年度予算案を決定した。一般会計の歳出総額は19年度当初予算比1.2%増の(A)で、8年連続で最大を更新した。政府は、20年1月に召集される予定の(B)国会に予算案を提出し、3月末までの成立を目指している。

歳出面では、(C)関係費は、1兆7302億円増加し、このうち高齢化による伸びが、4111億円だった。また、高等教育の無償化には4882億円を盛り込んだ。

今年度に続いて、消費増税や世界経済の下ぶれリスクに備えた景気の下支えのための「臨時・特別の措置」を講じ、次年度は約1兆7800億円を投じる。①キャッシュレス決済のポイント還元事業(約2700億円)や、マイナンバーカードを持つ人へのポイント還元(約2480億円)、②国土強靱化の緊急対策(約1兆1430億円)などを盛り込む。

また、③防衛費は、1.1%増の5兆3133億円で、8年連続で増加し、最大を更新した。

歳入では、10月の④消費増税の効果が通年で生じるため、⑤税収も過去最高となる約63兆5130億円を見込んでいる。⑥新たな借金となる新規国債発行額は1043億円減の32兆5562億円で、10年連続で減少する。18年度決算の余剰金などの活用で税外収入は2871億円増の6兆5888億円で、9年ぶりの高水準となった。

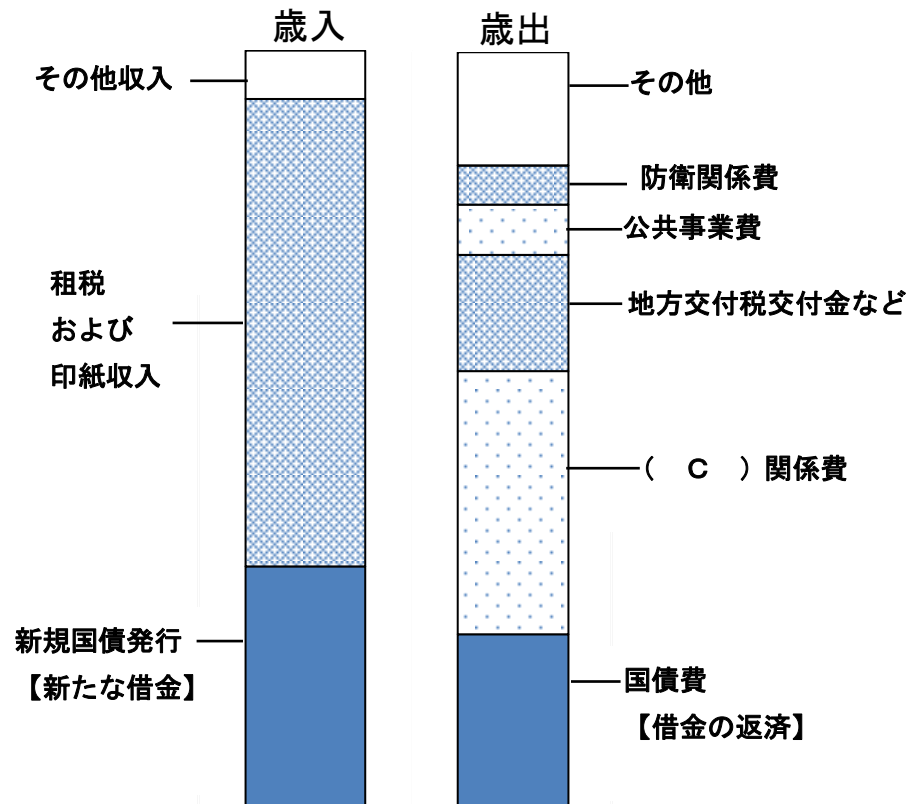


図 2020年度予算案
(2019年12月21日『読売新聞』より)

問1 (A)にあてはまる最も近い金額をア～エから1つ選び、記号で答えなさい。
ア. 約50兆円 イ. 約80兆円 ウ. 約100兆円 エ. 約150兆円

問2 (B)にあてはまる語句をア～エから1つ選び、記号で答えなさい。
ア. 通常 イ. 臨時 ウ. 特別 エ. 緊急

問3 (C)にあてはまる語句を、漢字4字で答えなさい。

問4 下線部①について、このことの説明として誤っているものをア～エから1つ選び、記号で答えなさい。

- ア. 事業者にとっては、キャッシュレス決済サービスを導入することで現金を管理する業務の負担が軽減され、働き方改革にもつながるというメリットがある。
- イ. 日本のキャッシュレス決済の普及率は20%台とまだまだ少なく、世界トップの韓国が90%以上であるのとくらべると、普及が進んでいない状況である。
- ウ. キャッシュレス決済の種類には、スマホ決済やクレジットカード決済、電子マネー決済、小切手・手形による決済などがあり、決済のしくみはそれぞれ異なる。
- エ. キャッシュレス決済は、手元に現金がなくても支払いができるため、特にクレジットカード決済のように後払い方式だと、ついつい使い過ぎてしまうケースもある。

問5 下線部②について、中心的役割をになう省の名称を「省」をのぞいて漢字4字で答えなさい。なお、その省のもとには観光庁や気象庁などがある。

問6 下線部③に関連して、この説明として誤っているものをア～エから1つ選び、記号で答えなさい。

- ア. 日本の防衛関係費は対GDP比では低いですが、総額では世界有数の金額になっている。
- イ. 第二次世界大戦の経験もあり、日本が防衛関係費の増額をおこなうと、周辺各国から警戒心を持たれやすい。
- ウ. 日本の防衛関係費は、1990年代前半まで増え続けたが、冷戦終結と財政赤字の肥大化を受けて、減少傾向が現在まで続いている。
- エ. 政府は1976年に防衛費のGNP1%以内を閣議決定したが、その後、GNP1%以内という枠を撤廃した。

問7 下線部④について、日本の消費税の説明として**誤っているもの**をア～エから1つ選び、記号で答えなさい。

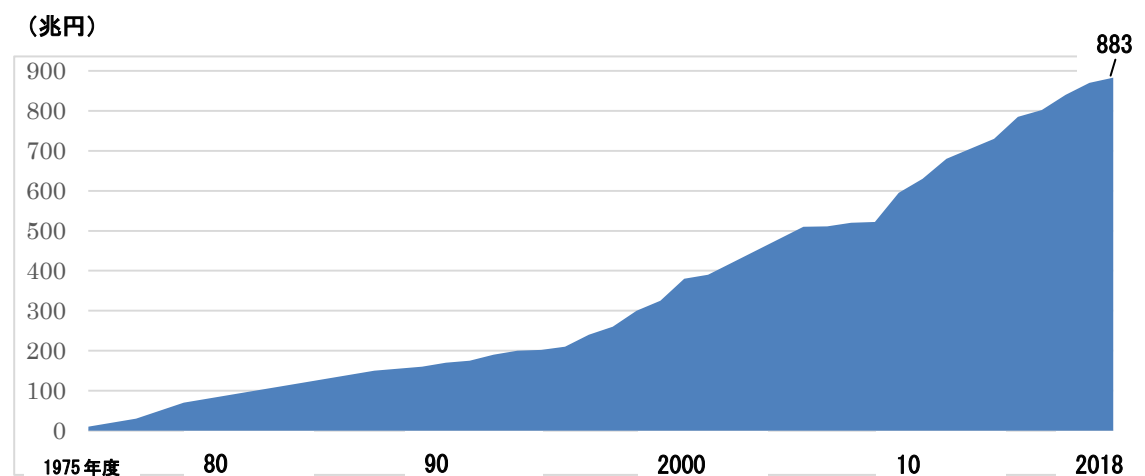
- ア. はじめて消費税法が成立したときの税率は、3%であった。
- イ. 生活必需品である飲食料品には、現在8%の軽減税率が適用されている。
- ウ. 税金を納める人と負担する人が異なる間接税である。
- エ. 家計にしめる税負担率は、所得が高い世帯でも低い世帯でも、あまり変わらない。

問8 下線部⑤について、次の(1)(2)の問いに答えなさい。

- (1) この税収の主なもの(額の大きなもの)としては、所得税・消費税と、もう1つあげられる。あてはまる税を、「税」をのぞいて漢字2字で答えなさい。
- (2) 所得の多い人ほど高い税率を課す制度を何というか、「制度」をのぞいて漢字4字で答えなさい。

問9 下線部⑥について、次の図を参考に、2018年度の国民1人あたりの金額に最も近いものをア～エから1つ選び、記号で答えなさい。

- ア. 約100万円
- イ. 約500万円
- ウ. 約700万円
- エ. 約1000万円



(財務省資料より)

図 国債発行残高の推移